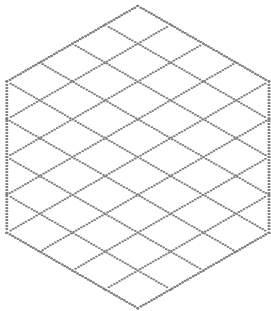
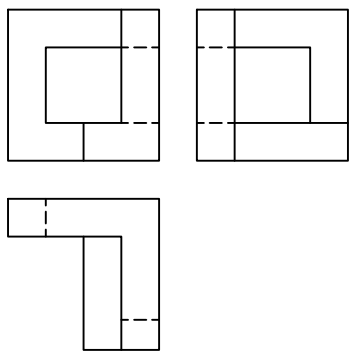
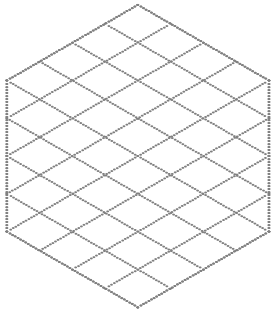
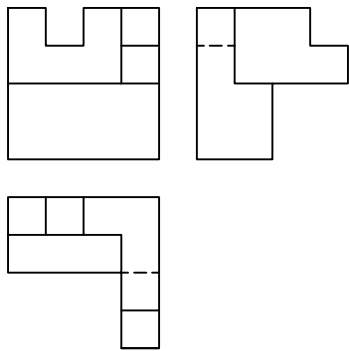


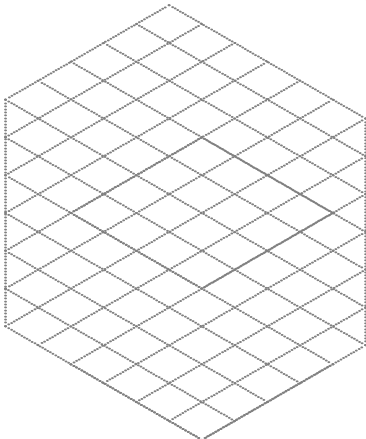
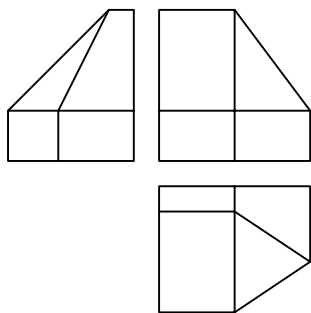
Dadas las vistas fundamentales de un cuerpo, realizar el dibujo isométrico en escala 1:1, en la posición indicada en el cubo.



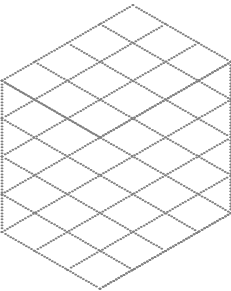
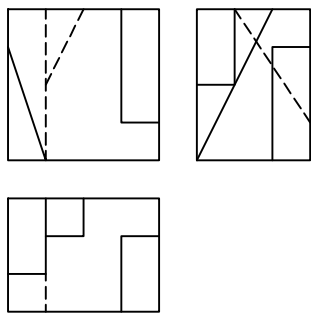
Dadas las vistas fundamentales de un cuerpo, realizar el dibujo isométrico en escala 1:1, en la posición indicada en el cubo.



Dadas las vistas de un cuerpo, realizar el dibujo isométrico en escala 1:1.5, en la posición indicada en el cubo.



Dadas las vistas fundamentales de un cuerpo, realizar el dibujo isométrico en escala 1:1, en la posición indicada en el cubo.



Universidad Nacional de San Juan
Facultad de Ingeniería

Dibujo y Diseño Asistido por Computadora

Fecha Revisó

Alumno

Registro Espec. Grupo TP N°

VISUALIZACIÓN I
Isométrico
Cuadernillo de Ejercitación 2/2